

2024-2025 ՈՒՍՏԱՐԻ
ՆԱԽՆԱԿԱՆ ԶԻՆՎՈՐԱԿԱՆ ՊԱՏՐԱՍՏՈՒԹՅՈՒՆ ԵՎ ԱՆՎՏԱՆԳ
ԿԵՆՍԱԳՈՐԾՈՒՆԵՈՒԹՅՈՒՆ ԱՌԱՐԿԱՅԻ ՕԼԻՄՊԻԱԴԱՅԻ ՄԱՐԶԱՅԻՆ ՓՈՒԼԻ
ԹԵՍՏԱՅԻՆ ԱՌԱՋԱԴՐԱՆՔՆԵՐ
11 – 12-ՐԴ ԴԱՍԱՐԱՆՆԵՐ

Տևողությունը՝ **90** րոպե:

Գնահատումը կատարվում է 20 միավորանոց համակարգով:

Բոլոր առաջադրանքներն ունեն մեկ ճիշտ պատասխան:

Ճիշտ պատասխանը գնահատվում է 1 (մեկ) միավոր:

1. Ի՞նչ նպատակ էր հետապնդում 1896թ. օգոստոսի 14-ին «Բանկ Օտոմանի» օպերացիան.

1. քանակի գումարներին տիրանալը,
2. հայկական հարցի լուծումը,
3. **հայկական նահանգներում ծրագրված բարենորոգումների իրականացում,**
4. թուրքական բանակի վրա ճնշում գործադրելը:

2. Համապատասխանեցնել դիվիզիաները հրամանատարների հետ:

1. 390 -րդ դիվիզիա ա. Ա. Զաքարյան
2. 409- րդ դիվիզիա բ. Ն. Սաֆարյան
3. 89 - րդ դիվիզիա գ. Ա. Վասիլյան
4. 261 - րդ դիվիզիա դ. Ն. Բալոյան

1.1-ա, 2-գ, 3-բ, 4-դ

2.1-ա, 2-բ, 3-գ, 4-դ





3.1-բ, 2-գ, 3-դ, 4-ա

4.1-գ, 2-դ, 3-ա, 4-բ

3. Նշվածներից ո՞րը կարող է զգալի ազդեցություն ունենալ դիպուկ կրակոցի վրա:

1. Հրաձիգի մտածողությունը
2. Հարձիգի լսողությունը
3. Հարձիգի դիրքավորումը
4. **Հրաձիգի շնչառությունը**

4. Համապատասխանեցնել ՀՀԶՈՒ կոչումները:

1		Ա. Կապիտան
2		Բ. Գնդապետ
3		Գ. Բանակի գեներալ
4		Դ. Ավագ ենթասպա

1. **1 - բ, 2 - գ, 3 - դ, 4 - ա**

2. 1 - գ, 2 - բ, 3 - ա, 4 - դ

3. 1 - ա, 2 - դ, 3 - բ, 4 - գ

4. 1 - դ, 2 - ա, 3 - գ, 4 - բ

5. Հայկական ո՞ր դիվիզիայի թերթի խմբագիրն էր Հրայր Քոչարը.

1. 76-րդ հայկական լեռնահրաձգային

2. 408-րդ հայկական հրաձգային

3. 409-րդ հայկական հրաձգային

4. 89-րդ հայկական հրաձգային

6. Ի՞նչպես է իրականացվում հակառակորդին արագ մոտենալը:

1. սողեսող

2. վազեվազքով

3. վազքով

4. Արագ քայլքով

7. Քամին աջ կողային է և չափավոր, իսկ նշանակետը գտնվում է 600 մ հեռավորության վրա: Որոշել առաջանշանատումը: Հրաձգությունը վարվում է ԿԱ-74 (5.45 մմ տրամաչափ) ավտոմատից:

1. 3 թիրախի մեծություն դեպի աջ:

2. 2 թիրախի մեծություն դեպի աջ:

3. 4 թիրախի մեծություն դեպի ձախ:

4. 1 թիրախի մեծություն դեպի ձախ:

8. Մարդու հասակը 1,68 մ է: Որոշել նրա քայլի երկարությունը.

1. 0,85 մ

2. 0,79 մ

3. 0,75 մ

4. 0,83 մ

9. Ի՞նչ փամփուշտներով է լիցքավորվում փամփուշտատուփը գիշերային հարձակման համար:

1. Սովորական

2. գրահահար

3. գրահահար-հրկիզող

4. լուսածրող

10. Հրանոթի արկի պայթյունի ձայնը դիտորդը լսեց կրակոցից 12 վրկ հետո: Որոշել հրանոթի հեռավորությունը:

1. 4.2 կմ

2. 3.6 կմ

3. 3 կմ

4. 4 կմ

11. Համապատասխանացնել 1992թ. օգոստոսի 14-ին ԼՂՀ-ում ստեղծված պաշտպանական շրջանները եվ նրանց հրամանատարներին.

1. Շուշիի պաշտպանական շրջան

Ա. Վիտալի Բալասանյան

2. Մարտակերտի պաշտպանական շրջան

Բ. Վաչագան Իշխանյան

3. Մարտունու պաշտպանական շրջան

Գ. Նորայր Դանիելյան

4. Ասկերանի պաշտպանական շրջան

Դ. Սոնթե Մելքոնյան

1. 1-բ, 2-գ, 3-դ, 4-ա,

2. 1-ա, 2-դ, 3-բ, 4-գ,

3. 1-գ, 2-բ, 3-ա, 4-դ,

4. 1-դ, 2-ա, 3-գ, 4-բ:

12. Նշանակետը 1.6 մ բարձրությամբ մարդատար ավտոմեքենա է և ծածկվում է բթամատով: Որոշել մինչև նշանակետը եղած հեռավորությունը:

1. 40 մ
2. 64 մ
3. 400 մ
4. 640 մ

13. Ի՞նչն է արգելվում զինվորին, եթե ջոկը փոխում է իր ուղղությունը:

1. Դանդաղ շարժվել դեպի ազատ տարածք
2. Ընդունել նպաստավոր դիրք
3. Փոխել իր տեղը ջոկի մարտակարգում
4. Միավորվել մոտակա ջոկին

14. Կայծակահարված հիվանդին առաջին օգնություն ցուցաբերելիս նշված գործողություններից ո՞րը չպետք է կատարել.

1. Պառկեցնել ցամաքած առվակում,
2. Հեռացնել մետաղական առարկաներից,
3. Տանել մոտակա քարանձավը,
4. Թաղել հողի մեջ:

15. Նշվածներից ո՞րը շնու գազից թունավորման նախանշան չէ:

1. Փխսում
2. գիտակցության կորուստ
3. այրող ցավ որովայնում
4. շնչառական խանգարում

16. Քանի գրամ է կշռում Ֆ-1 նոնակը 600գ :

17. Այրվածքների և ցրտահարությունների ո՞ր աստիճանի ժամանակ է առաջանում բշտիկներ 2-րդ

18. Քանի՞ րոպե ընդմիջով է բնակչությանը տեղեկատվություն տրամադրվում Արտակարգ իրավիճակների ժամանակ 5 րոպե:

19. Արցախյան ազատամարտը 1992թ. պայմանականորեն քանի փուլի է բաժանվում 3 փուլի:

20. Առանց հատուկ պաշտպանական միջոցների, մարդու կենսական օրգանները ոչնչացման համար որքան կինետիկ էներգիա է պետք 8 կգ ուժ մ.: