



ԱՇԽԱՐՀԱԳՐՈՒԹՅԱՆ ՕԼԻՄՊԻԱԴԱՅԻ ԵԶՐԱՓԱԿԻՉ ՓՈՒԼ - 2016

1

ՈՒՇԱԴՐՈՒԹՅՈՒՆ

- Նայե՛ք ցուցադրվող նյութը և եղե՛ք ուշադիր:
- Տրված է 20 հարց, որին պատասխանելու համար ունեք ընդամենը 15 րոպե:
- Յուրաքանչյուր պատասխանին հատկացված է 20-ից մինչև 60 վրկ.:
- Ձեր պատասխանը գրեք թերթիկում հատկացված համապատասխան շրջանակի մեջ:
- Եթե սխալվել եք, ջնջեք և կատարեք ուղղում:
- Յուրաքանչյուր հարց գնահատվում է 1 միավոր /բայլը 0,5 միավոր/:

Հաջողություն

60 վրկ.

2

Հ 1

Օգտվելով նկարում պատկերված լեռների արտաքին հատկանիշներից, որոշել դրանց կառուցվածքը կամ ծագումը

- A. Հրաբխային C. Ծալքավոր
B. Ծալքաբեկորային D. Բեկորավոր

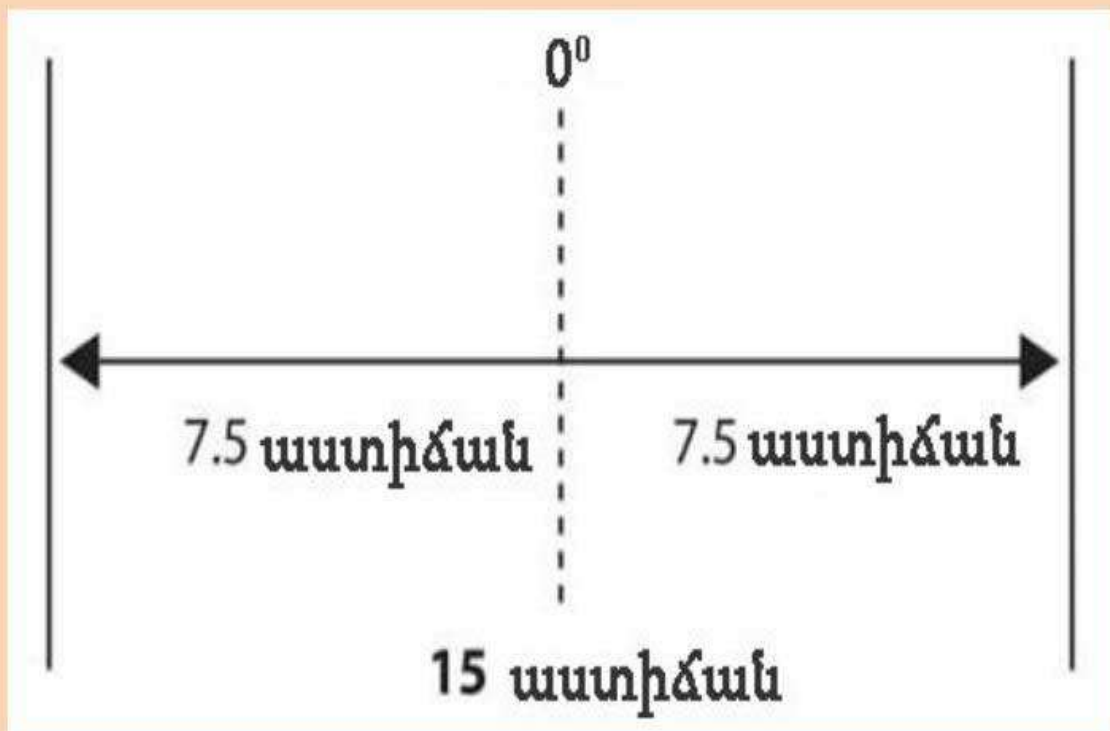


60 վրկ.

3

Հ 2

Ինչի^օ սահմաններն են նշված նկարում



30 վրկ.

4

Հ 3

Ի՞նչ ապար է պատկերված նկարում

- A. Կրաքար
- B. Մարմար
- C. Գրանիտ
- D. Տուֆ



30 վրկ.

5

Հ 4

Ի՞նչ գոյացություն է պատկերված նկարում

- A. Հրաբխային
- B. Կարստային
- C. Սառցային
- D. Փլվածքային



30 վրկ.

6

Հ 5

Քամու ո՞ր տեսակն է պատկերված նկարում

A. Բրիզ

B. Լեռնային

C. Լեռնահովտային

D. Ֆյոն



60 վրկ.

Հ 6


Ամպերի ո՞ր տեսակն է պատկերված նկարում

A. Կույտավոր

B. Շերտավոր

C. Կույտաանձրևային

D. Փետրավոր



30 վրկ.

Հ 7

Կլիմայական ո՞ր գոտուն է բնորոշ այս լանդշաֆտը




30 վրկ.

9

Հ 8

Բնական ո՞ր գոնային է բնորոշ այս բնապատկերը



45 վրկ.

10

Հ 9 Ի՞նչ հայտնի պրոցես է պատկերված նկարում



45 վրկ.

11

Հ 10 Ո՞ր հիմնախնդիրն է խորհրդանշում նկարը



30 վրկ.

12

Հ 11

Բնակչության կազմի ո՞ր հատկանիշի հիման վրա է կատարվել քարտեզի գունավորումը

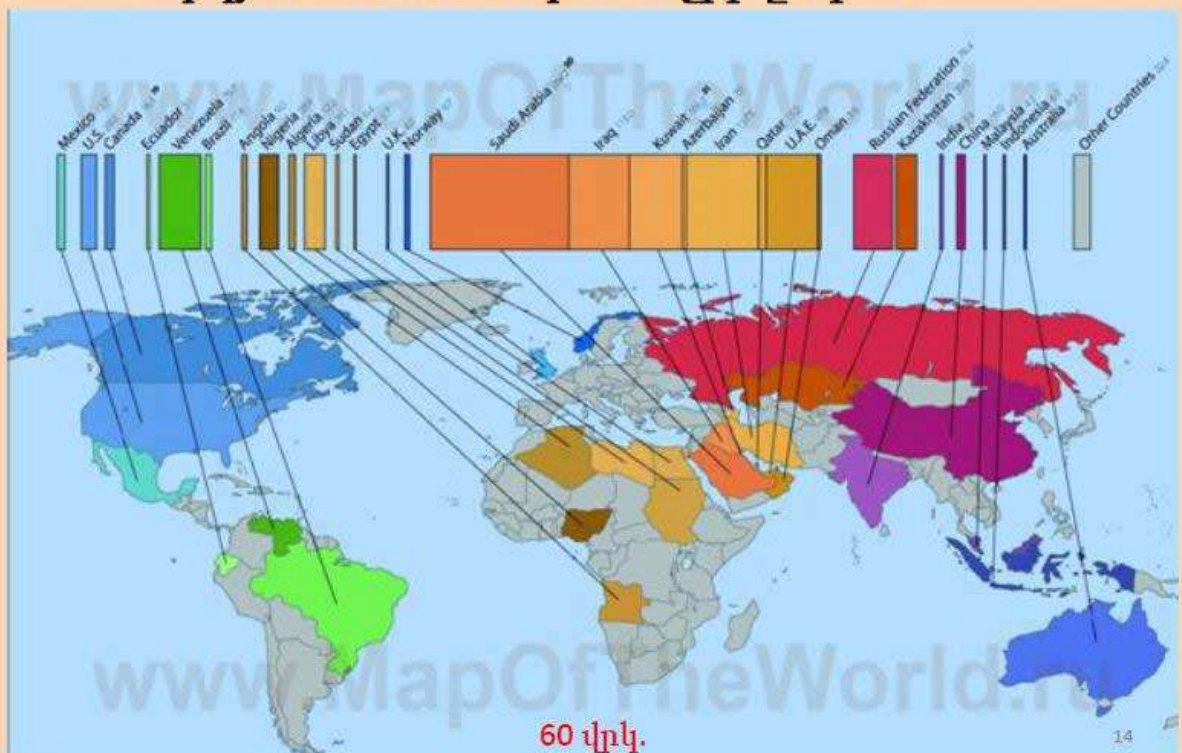
- A. Մեռային
- B. Տարիքային
- C. Կրոնական
- D. Ռասայական



60 վրկ.

Հ 12

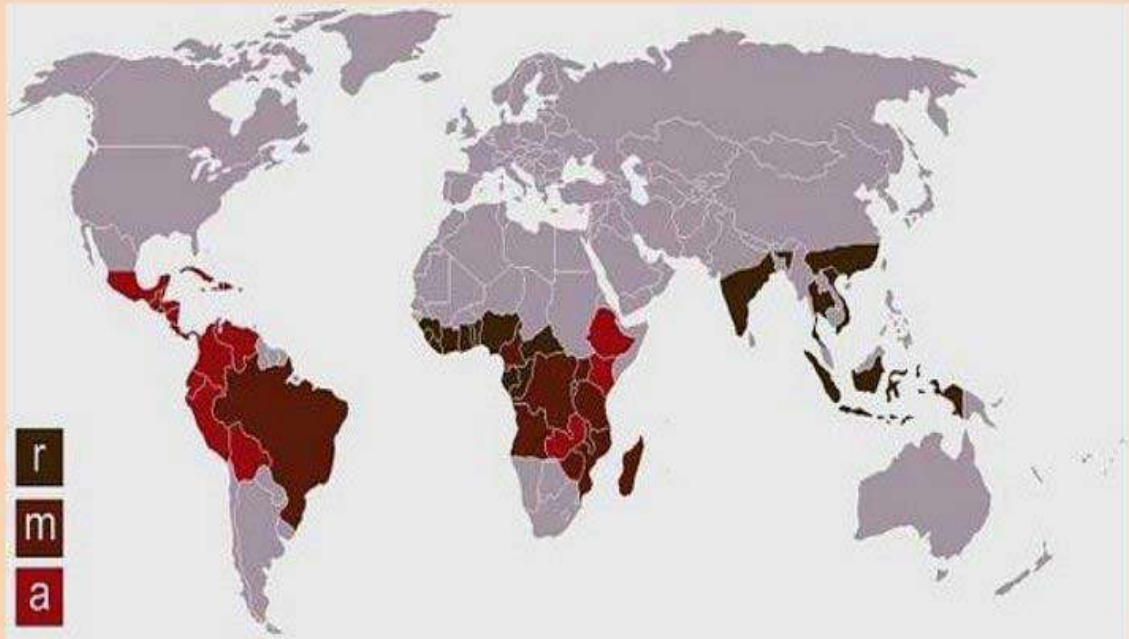
Քարտեզում առանգնացված երկրներն ինչի՞ արդյունահանմամբ են աչքի ընկնում



60 վրկ.

Հ 13

Տեխնիկական ո՞ր մշակաբույսի տեղաբաշխումն է պատկերված քարտեզում



45 վրկ.

15

Հ 14

Ո՞ր երկրի արտահանման հիմնական մասն են կազմում այս ապրանքները

- A. Պերու
- B. Ադրբեջան
- C. Կոլումբիա
- D. Կուբա



թմրանյութ

սուրճ

նավթ

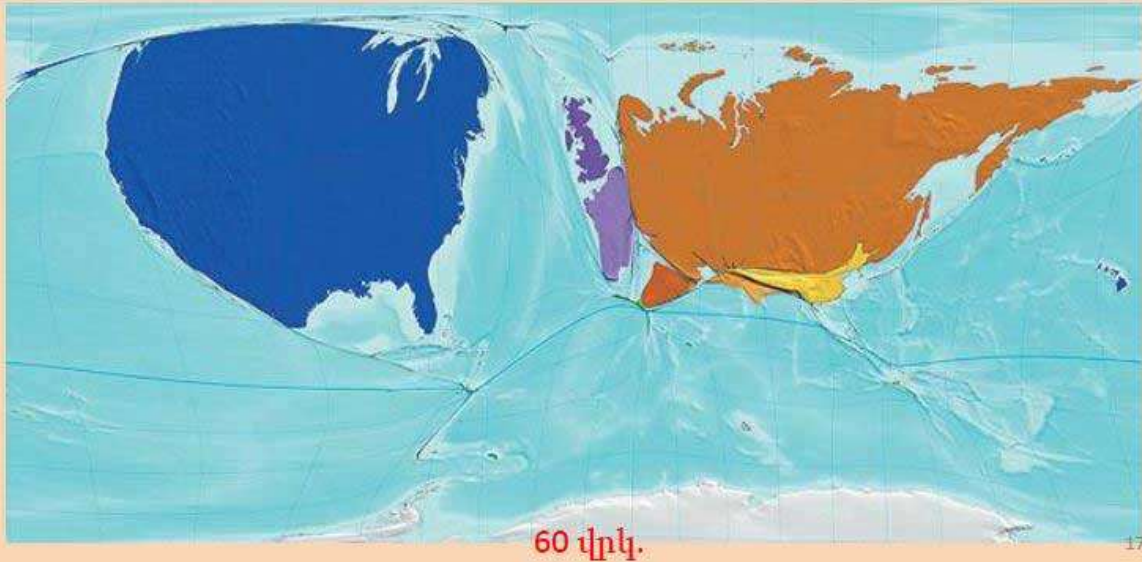
60 վրկ.

16

Հ 15

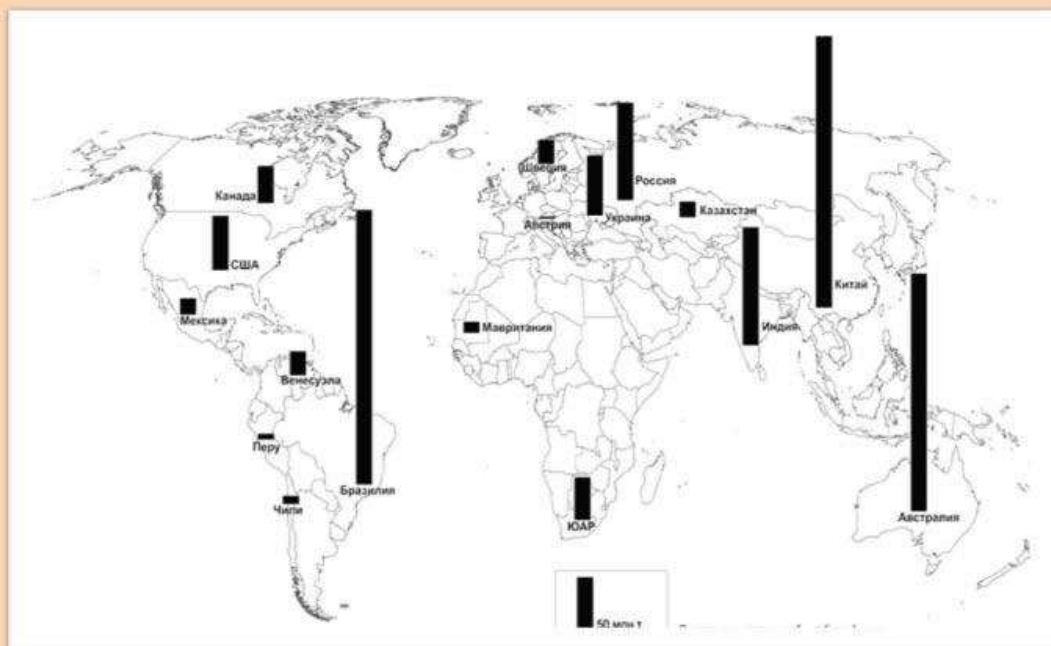
Քարտեզում պատկերված են.

- A. Միջուկային գերտերությունները
- B. Ամենամեծ տարածք ունեցող երկրները
- C. Զարգացած յոթնյակի երկրները
- D. Մերենաշինությամբ զարգացած երկրները



Հ 16

Ո՞ր հանքաքարի արդյունահանման ծավալներն են պատկերված նկարում

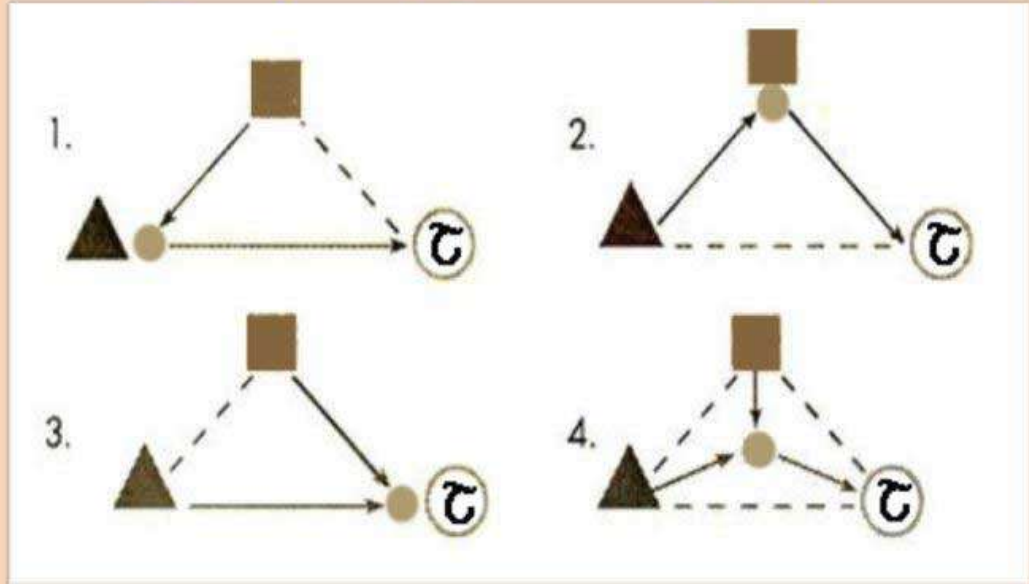


45 կրկ.

Հ 17

Ի՞նչ է պատկերված նկարում

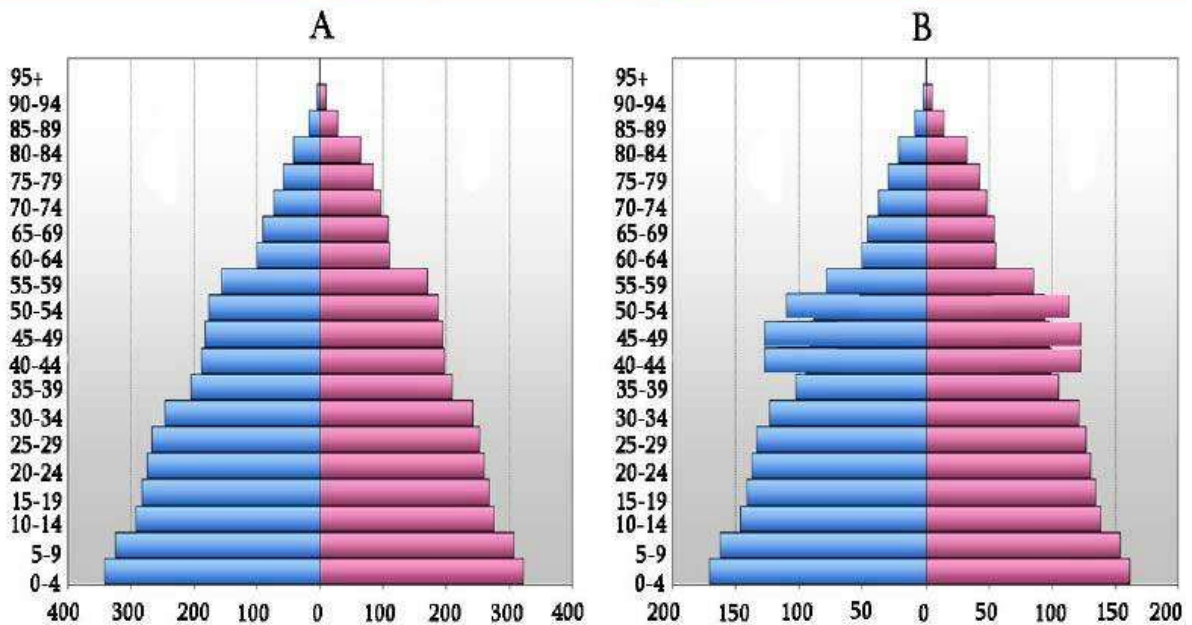
- A. Մետաղաձուլարանի տեղաբաշխման տարբերակներ
- B. Շուկայի կառավարման ձևեր
- C. Հանքանյութի շուկա
- D. Տնտեսության կառավարման եռանկյունի



60 վրկ.

Հ 18

A և B երկրներից որի աշխատանքային ռեսուրսներն են ավելի շատ



60 վրկ.

Հ 19

Ո՞ր ջրվեժն է պատկերված լուսանկարում



25 վրկ.

21

Հ 20

Ի՞նչ ընդհանրություն կա 2 նկարների միջև, ի՞նչն է միավորում դրանց

- A. Բնական հուշարձաններ են C. Բազալտային սյուներ են
B. Հուշարքեր են D. Հնագույն աստղադիտարաններ են



Մեծ Բրիտանիա



Հայաստան

60 վրկ.

22

