

9 - ԸՆԴՀԱՄԱՐԱՆ

Տևողությունը՝ **120** րոպե:

Գնահատումը կատարվում է 20 միավորանոց համակարգով:

Բոլոր առաջադրանքներն ունեն մեկ ճիշտ պատասխան:

Ճիշտ պատասխանը գնահատվում է 1(մեկ) միավոր:

1. Ո՞վ է ՀՀ օրհներգի խոսքերի հեղինակը

**1) Միքայել Նալբանդյանը**

3) Սիլվա Կապուտիկյանը

2) Հովհաննես Թումանյանը

4) Խաչատուր Աբովյանը

2. Ո՞րն է համարվում S -80 տանկի հիմնական սպառազինությունը

1) 115 մմ հարթափող թնդանոթ

3) 152 մմ հարթափող թնդանոթ

**2) 125 մմ հարթափող թնդանոթ**

4) 135մմ հարթափող թնդանոթ

3. Ի՞նչ է նշանակում «Մղնախ» մոնոլիթներից թարգմանած:

1) Մարգ

2) Բնակավայր

**3) Ամբոթյուն**

4) Քաղաք

4. Ի՞նչ ստեղծեց Դավիթ Բեկը Սյունիքում մի խումբ զինվորականների հետ 1720-ականների կեսերին:

1) Նետաձիգ գնդեր

3) Առանձին ստորաբաժանումներ

2) Ռազմական ստորաբաժանումներ

**4) Զինվորական խորհուրդ**

5. Բաշ-Ապարանի ճակատամարտում Դրոն ինչպիսի՞ գործողություններով ստիպեց հակառակորդին, որպեսզի վերջինս իր հիմնական ուժերը տեղափոխի կենտրոնի տափարակի վրա:

**1) Ճակատային գործողություններով**

3) Թևանցման գործողություններով

2) Թիկունքային գործողություններով

4) Շրջանցման գործողություններով

6. Ո՞վ էր ղեկավարում Ղարաքիլիսայի պաշտպանությունը:

**1) Բեյ Մամիկոնյանը**

3) Գարեգին Նժդեհը

2) Անդրանիկ Օզանյանը

4) Գուրգեն Տեր-Մովսիսյանը

7. 1918թ. մայիսյան հերոսամարտերի ժամանակ ո՞վ էր հայկական զորքերի սպարապետը

1) Քրիստափոր Արարատյանը

3) Պողոս Բեկ-Փիրումյանները

2) Արամ Մանուկյանը

**4)Գեներալ-լեյտենանտ Թովմաս Նազարբեկյանը**

8. Ո՞րքան է «ՌՊԳ -7» նոնականետի քաշը

**1) 6.3-7.0 կգ**

2) 3.5-5.5 կգ

3) 7.5-8.0 կգ

4) 7.0-8.0 կգ

9. Հետագայում ի՞նչ անվանում ստացավ Սևանա լճի նավատորմի զորավարած ռուսական «Մեստրիցա Նյուշա» նավը:

1) Գեղեցկուհի

2) Հայկանուշ

**3) Գեղանուշ**

4) Ռուսավկա

10. Զինվորական ողջունի համար քանի՞ քայլ հեռավորության վրա է զինվորը դադարեցնում ձեռքերի շարժումը:





**1) 3-4**

2) 4-5

3) 5-6

4) 2-3

11. Համապատասխանեցնել անվանումները պայմանական նշաներին:

1.  **ա. Քարակույտներ** **Նշեք ճիշտ պատասխանը՝**  
 1) 1 - դ, 2 - ա, 3 - բ, 4 - գ  
 2) 1 - ա, 2 - բ, 3 - գ, 4 - դ  
**3) 1 - բ, 2 - ա, 3 - դ, 4 - գ**  
 4) 1 - դ, 2 - ա, 3 - գ, 4 - բ
2.  **բ. Բնակելի և ոչ բնակելի կառույցներ**
3.  **գ. Մրգատու այգիներ**
4.  **դ. Ջրադացներ**

12. Զգանք քաշելիս քանի՞ վայրկյան պետք է պահել շնչառությունը:  
 1) 5 - 6 վրկ. **2) 7 - 10 վրկ.** 3) 6 - 7 վրկ. 4) 7 - 8 վրկ.

13. Քանի՞ մասից է բաղկացած ինքնաձիգի հետադարձ մեխանիզմը:  
 1) 6 2) 5 3) 6 **4) 4**

14. Ի՞նչ է նախահոգեվարքը:  
 1) Կենտրոնական նյարդային համակարգը խիստ ընկճված է, բբային ռեակցիան դեռևս պահպանված է:  
 2) Կենտրոնական նյարդային համակարգը խիստ ընկճված է, բբային ռեակցիան դեռևս պահպանված է, շնչառությունն ու արյան շրջանառությունը խիստ թուլացած են:  
 3) Կենտրոնական նյարդային համակարգը խիստ ընկճված է, բբային ռեակցիան դեռևս պահպանված է, իսկ գիտակցությունը բացակայում է:  
 4) Կենտրոնական նյարդային համակարգը խիստ ընկճված է, բբային ռեակցիան դեռևս պահպանված չէ:

15. Տուժածի անոթագարկի բացակայության դեպքում բուժում քա՞նի կրծքային սեղմում պետք է կատարել:  
 1) 50 **2) 100** 3) 70 4) 60

16. Որո՞նք են մարտի տեսակները:  
 1) Հարձակում և քողարկում 2) Պաշտպանություն և քողարկում  
**3) Հարձակում և պաշտպանություն** 4) Պաշտպանություն և հետապնդում

17. Ո՞րն է համարվում նշանառություն:  
 1) Նշանահատիկի և նշանաձողիկի ճիշտ համադրումն է:  
**2) Ջենքի փողին անհրաժեշտ ուղղություն տալն է՝ թիրախը խցելու համար:**  
 3) Աջքը համատեղել նշանահատիկի և թիրախի կենտրոնի հետ:  
 4) Ջենքի փողը դեպի թիրախը ուղեղն է:

18. Քանի՞ ջոկն է համարվում մեկ դասակ.  
**1) 3** 2) 4 3) 2 4) 5

19. Որքա՞ն է զինվորների միջև հեռավորությունը մարտակարգ կազմելիս:  
 1) 6-7 մ (8-12 քայլ) 2) 7-8 մ (9-13 քայլ) 3) 5-6 մ (6-11 քայլ) **4) 6-8 մ (8-12 քայլ)**

20. Պաշտպանությունում քանի՞ մետր ճակատ է զբաղեցնում ջոկը:  
 1) 110 2) 90 3) 105 **4) 100**