

# Ուղեցույց

- Տվյալ փուլը ենթադրում է 20 հարց, որոնց պատասխանելու համար դուք ունեք 20 րոպե ժամանակ
- Կարող եք սահիկները փոխել առաջ և հետ՝ ինչպես որ հարմար կգտնեք
- Յուրաքանչյուր սահիկում նշվում է հարցի համարը
- Պատասխանները նշեք Ձեզ տրված ձևաթղթում
- Կարող եք պատասխանները նախ անցկացնել սևագրում
- Նշված պատասխանը այլևս չեք կարող փոխել, ուշադիր եղեք

## Ջարգ 1 Ի՞նչն է միավորում նշված բոլոր երկրներին

Ա. Ձրասակավորությունը

Գ. Էներգետիկ բարձր անվանգությունը

Բ. Ամառային և ձմեռային ժամանակի առկայությունը

Դ. Բնակչության ծերացումը



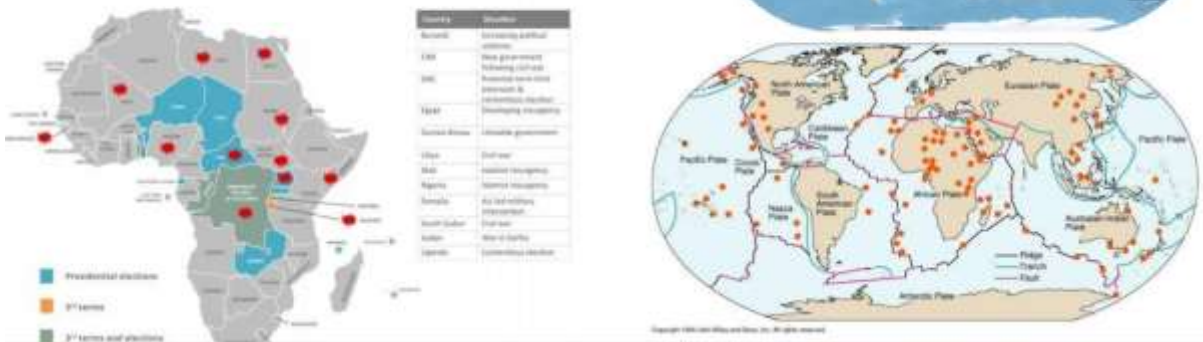
## Չարց 2 Ո՞րն է մարդկության առջև ծառայած ամենամեծ սպառնալիքը

- Ա. Անապատացումը
- Բ. Ծովի մակարդակի աճը
- Գ. Օզոնի հիմնախնդիրը
- Դ. Կենսաբազմազանության կորուստը



## Չարց 3 Ո՞ր եզրույթն է ընդհանուր երեք քարտեզների բովանդակության համար

- Ա. Թեժ կետ
- Բ. Ռեկրեացիա
- Գ. Հանքային գոտի
- Դ. Ռեկուլտիվացիա



## Յարց 4 Ի՞նչն է խորհրդանշում աշխարհի այս պատկերը

- Ա. Օկիանոսային խորջրյա հոսանքների համակարգը
- Բ. Վերնոլորտում մթնոլորտի շրջանառությունը
- Գ. Ջեյմս Կուկի արշավախումբը
- Դ. Գլոբալ հյուսիսն ու գլոբալ հարավը



## Յարց 5 Յորիզոնի ո՞ր կողմն է ուղղված տեսախցիկը, եթե նկարը արվել է Բոսթոնում հունիսի 22-ին

- Ա. Յյուսիս
- Բ. Արևելք
- Գ. Յարավ
- Դ. Արևմուտք



## Յարց 6 Նավերի ի՞նչ տեսակ է պատկերված քարտեզում

- Ա. Գերցանավեր
- Բ. Ուղևորատար նավեր
- Գ. Ձկնորսական նավեր
- Դ. Կոնտեյներային նավեր



## Յարց 7 Ի՞նչ բեռ է տեղափոխում այս 3 կմ ձգվածությամբ գնացքը Մավրիտանիայում

- Ա. Ջուր
- Բ. Ավազ
- Գ. Ոսկի
- Դ. Երկաթ



## Չարդ 8 ո՞ր գործոնի ազդեցությամբ է կատարվել այս հողմահարումը

- Ա. Ձերմաստիճանի տատանումներ
- Բ. Էոլային աշխատանք
- Գ. Ներքին ճնշում
- Դ. Կենդանի օրգանիզմներ



## Չարդ 9 Պլայայի տարածքում այս քարերի շարժման պատճառն է

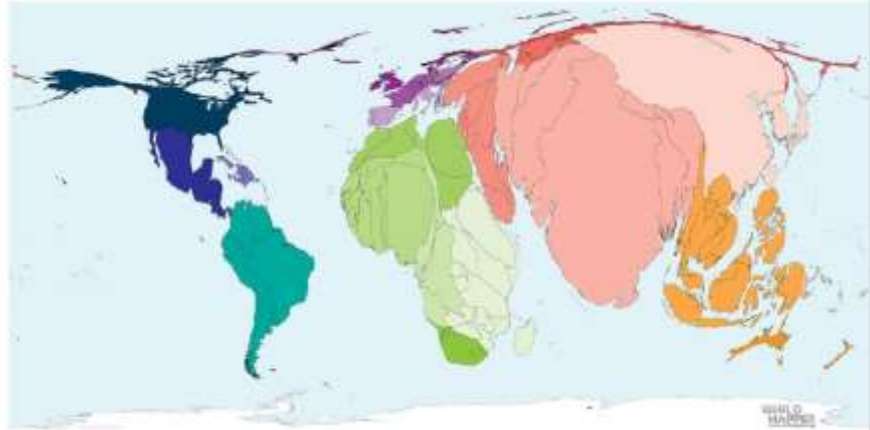
- Ա. Հաճախակի երկրաշարժերը
- Բ. Խոշոր կաթնասունները
- Գ. Սառցե կեղևի ձևավորումը և քամին
- Դ. Մագնիսականությունը



### Չարց 10

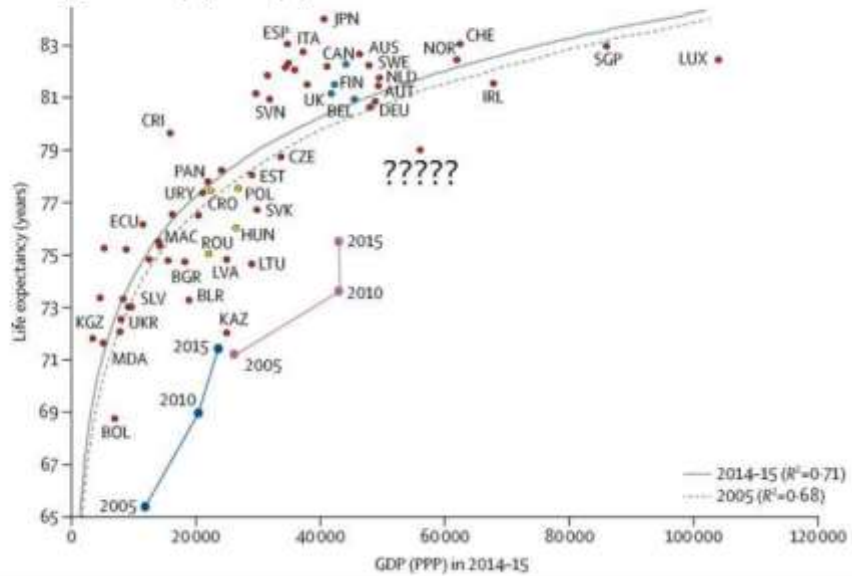
### Ի՞նչ է պատկերված ինտերակտիվ քարտեզում

- Ա. Երկրներում քաղաքաբնակների բաժինը
- Բ. Բնակչության աճը վերջին 50 տարվա ընթացքում
- Գ. Տղամարդկանց բաժինը երկրների բնակչության կազմում
- Դ. Հարաբերական բնական աճը ըստ երկրների



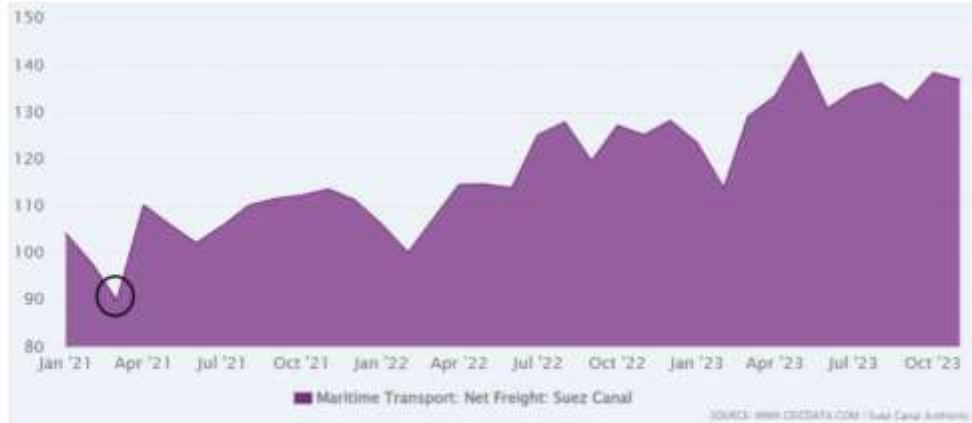
### Չարց 11 Ո՞ր երկիրն է թաքցված Պրեստոնի կորի պատկերում ????? Նշանների ներքո

- Ա. ԱՄՆ
- Բ. Քաթար
- Գ. Ֆրանսիա
- Դ. ՌԴ



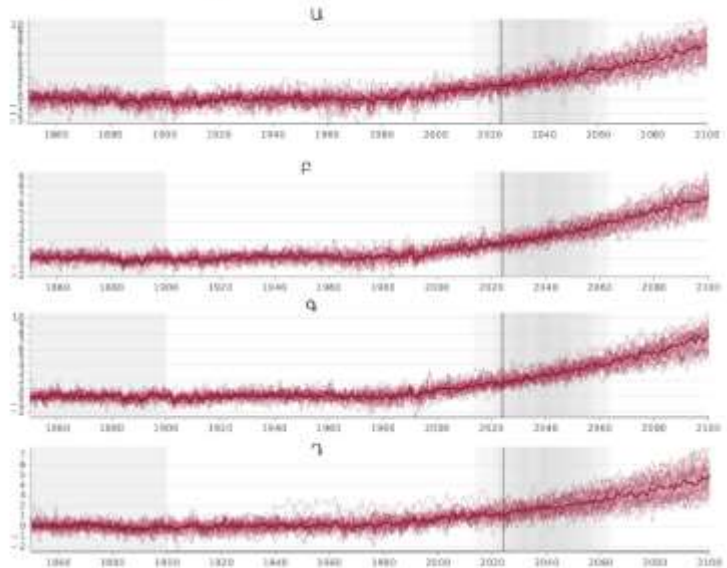
Չարց 12 Ի՞նչն է Սուեզի ջրանցքում վերջին տարիներին գրանցված բեռնափոխադրումների ամենամեծ անկման պատճառը (տես օղակով ներկայացված հատվածը)

- Ա. Ջրանցքի վերանորոգումը
- Բ. երկրաշարժը
- Գ. Սակավաջրությունը
- Դ. Նավի վթարը



Չարց 13 Ձերմաստիճանի կանխատեսվող տատանումների կորերից ո՞րն է վերաբերում Մեծ Բրիտանիային

- Ա. Ա
- Բ. Բ
- Գ. Գ
- Դ. Դ



Հարց 14 Օրվա ո՞ր ժամին է արվել լուսանկարը Վենետիկում, եթե այն արվել է ամռանը

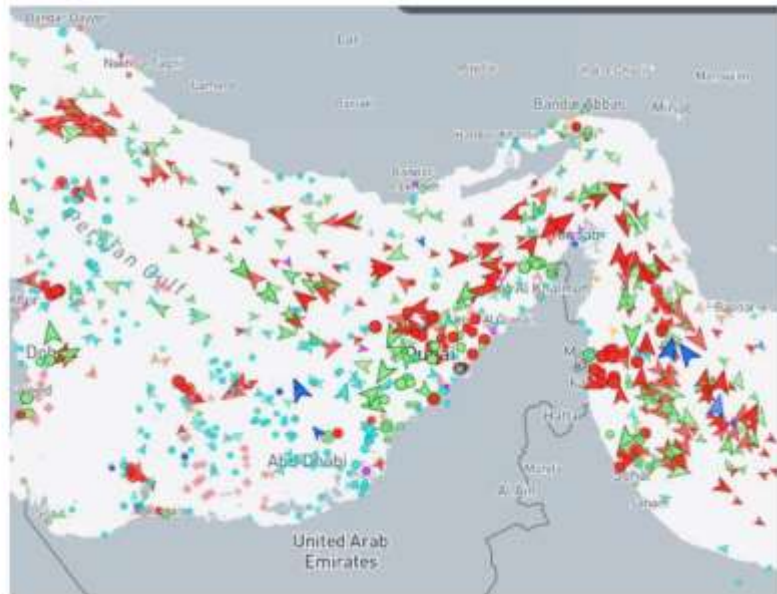
- Ա. 10:00
- Բ. 13:00
- Գ. 16:00
- Դ. 19:00



Հարց 15

Ո՞ր նավերն են նշված կարմիր գույնով

- Ա. Չբոսաշրջային
- Բ. Նավթատար
- Գ. Ռազմական
- Դ. Ուղևորատար



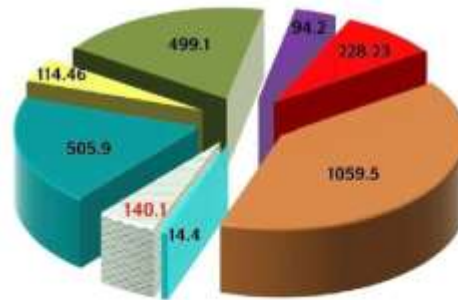


Չարց 16 Սևանա լճի ջրային հաշվեկշռի ո՞ր բաղադրիչն է ներկայացված 1059.5 մլն մ<sup>3</sup> ցուցանիշով

ՍԵՎԱՆԱ ԼՃԻ 2023 ԹՎԱԿԱՆԻ ՏԱՐԵԿԱՆ ՋՐԱՅԻՆ ՀԱՇՎԵԿՇԻՐԸ

մլն խոր. մ

- Ա. Թափվող տեղումները
- Բ. Արփա-Սևան թունելով բերվող ջուրը
- Գ. Գոլորշացումը լճի մակերևույթից
- Դ. Հրազդան գետով արտահոսքը



Չարց 17 Տարվա ո՞ր ժամանակահատվածում է արվել լուսանկարը Լենսոյգ ազգային պարկում (ավազային դյունների միջև անձրևաջուր է)

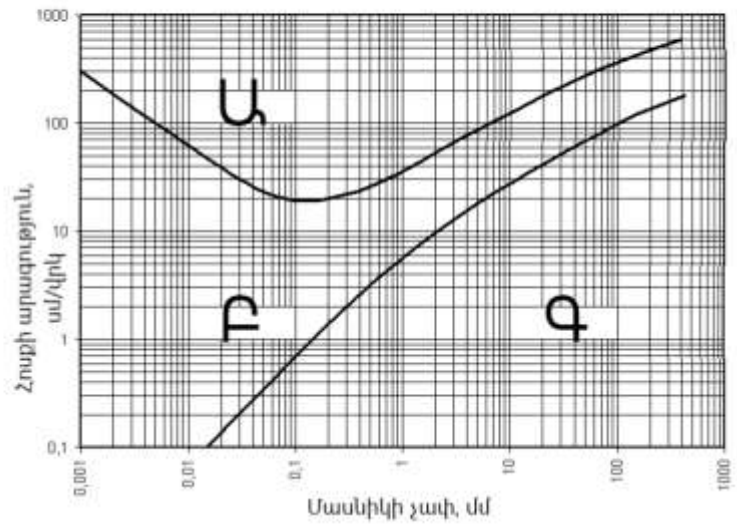
- Ա. Հունվար-մարտ
- Բ. Հունիս-Հուլիս
- Գ. Սեպտեմբեր-հոկտեմբեր
- Դ. Նոյեմբեր-Դեկտեմբեր



Չարց 18

Նշված չափի մասնիկներից որի՞ Էրոզիան տեղի չի ունենա 1մ/վրկ հոսքի արագության դեպքում

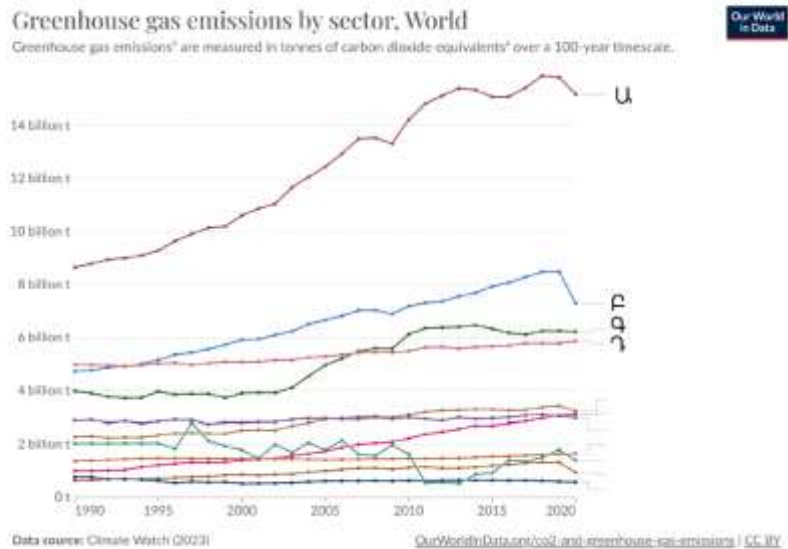
- Ա. 0.007մմ
- Բ. 0.02մմ
- Գ. 5մմ
- Դ. 10մմ



Չարց 19

Ջերմոցային գազերի արտանետման աղբյուրներից ո՞րն է համապատասխանում տրանսպորտին

- Ա. Ա
- Բ. Բ
- Գ. Գ
- Դ. Դ



- Ա. Միգրացիա
- Բ. Կեղծ ուրբանիզացիա
- Գ. Սուբուրբանիզացիա
- Դ. Ապաբաղաբայնացում



"We're waiting for the city to come to us..."

