

ԱՇԽԱՐՀԱԳՐՈՒԹՅԱՆ ՕԼԻՄՊԻԱԴԱՅԻ ԵԶՐԱՓԱԿԻՉ ՓՈՒԼ- 2019

April 6, 2019

1

ՈՒՇԱՐԴՐՈՒԹՅՈՒՆ

- Դիտե՛ք ցուցադրվող նյութը և եղե՛ք ուշադիր:
- Տրված է 20 հարց, որին պատասխանելու համար ունեք ընդամենը 20 րոպե:
- Յուրաքանչյուր հարցին տրվում է 1 րոպե ժամանակ:
- Տրված 4 պատասխաններից ընտրեք մեկը և նշեք թերթիկում հատկացված համապատասխան շրջանակի մեջ:
- Եթե սխալվել եք՝ ջնջեք և կատարեք ուղղում:
- Յուրաքանչյուր հարց գնահատվում է 1 միավոր:

April 6, 2019

60 վրկ.

Հատողություն

Հ 01

Ո՞ր երկրում են արվել այս լուսանկարները



A Արգենտինա

B Կիպրոս

C Բրազիլիա

D Իսրայել



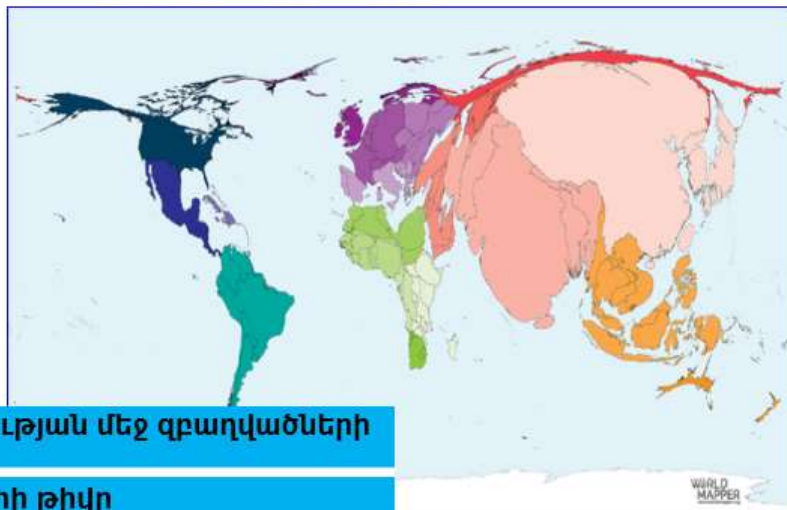
April 6, 2019

60 վրկ.

3

Հ 02

Քարտեզում պատկերված է՝



A արդյունաբերության մեջ զբաղվածների թիվը

B թռչանավորների թիվը

C երկրից արտագաղթած բնակչության թիվը

D սպասարկման ոլորտում զբաղվածների թիվը

April 6, 2019

60 վրկ.

4

Հ 03

Երևանում երեկո է: Փողոցի շենքի ո՞ր կողմի պատուհաններից Արեգակի ճառագայթներն օրվա ընթացքում երբեք ներս չեն ընկնի:



- A** A կողմի
- B** B կողմի
- C** C կողմի
- D** D կողմի

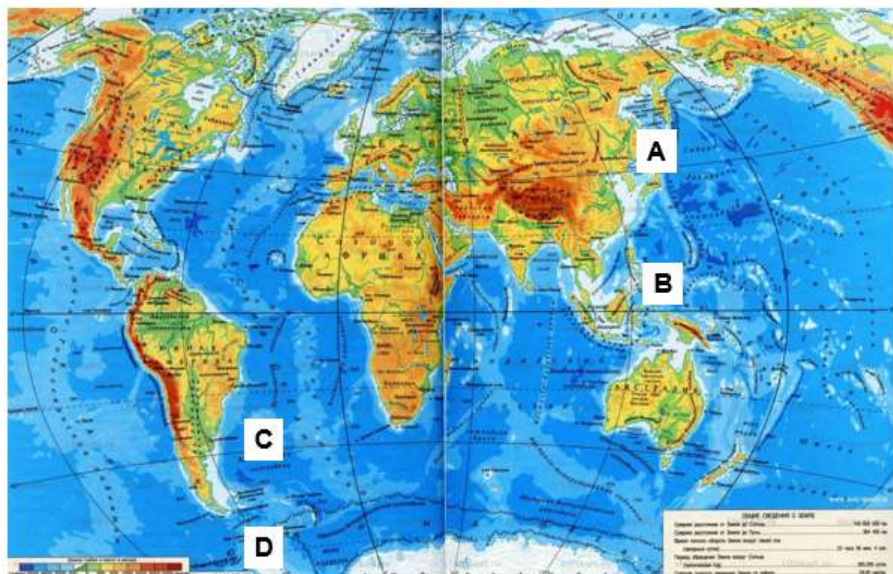
April 6, 2019

60 վրկ.

5

Հ 04

Նշված կետերից որում է քարտեզի աղավաղումներն ամենափոքրը



- A** A կետ
- B** B կետ
- C** C կետ
- D** D կետ

April 6, 2019

60 վրկ.

6

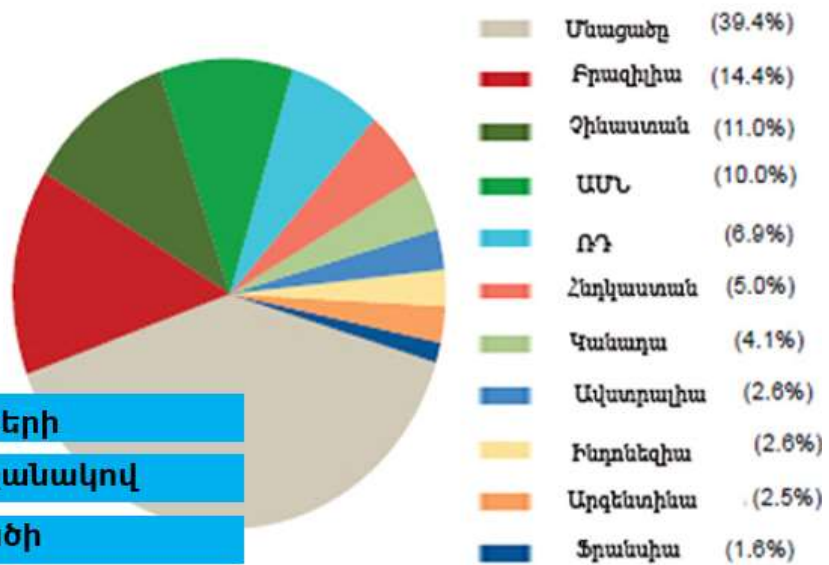
- A** պողպատի արտադրության ծավալները
- B** պղնձի արտադրության ծավալները
- C** ոսկու արտադրության ծավալները
- D** ալյումինի արտադրության ծավալները



April 6, 2019

60 վրկ.

- A** հողահանդակների
- B** խոզերի գլխաքանակով
- C** կենսազանգվածի ծավալով
- D** անտառների տարածքով



April 6, 2019

60 վրկ.

8

Հ 07

Նկարներում պատկերված ձևերը հիմնականում առաջացել են՝



A ջրի էրոզիայից

B սառցադաշտի էրոզիայից

C օրգանիզմների էրոզիայից

D քամու էրոզիայից



April 6, 2019

60 վրկ.

9

Հ 08

Քարտեզը խորհրդանշում է՝



A գլոբալիզացիան գործընթացը

B արտահանման գովազդումը

C աղ երկրներում տվյալ ֆիրմայի առկայումը

D երկրագնդի օֆշորային տարածքները

April 6, 2019

60 վրկ.

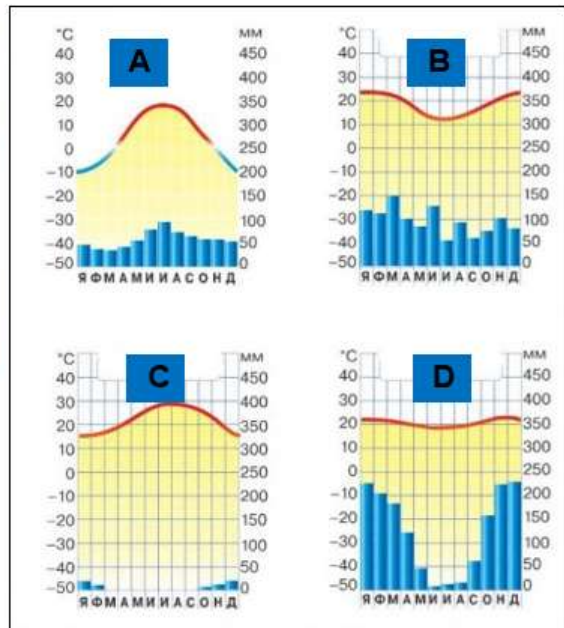
10

Հ 09 Ո՞ր կլիմայագրամն է ասավել շատ համապատասխանում նկարին



- A** կլիմայագրամ A
- B** կլիմայագրամ B
- C** կլիմայագրամ C
- D** կլիմայագրամ D

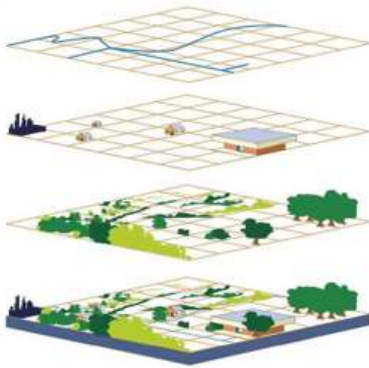
April 6, 2019



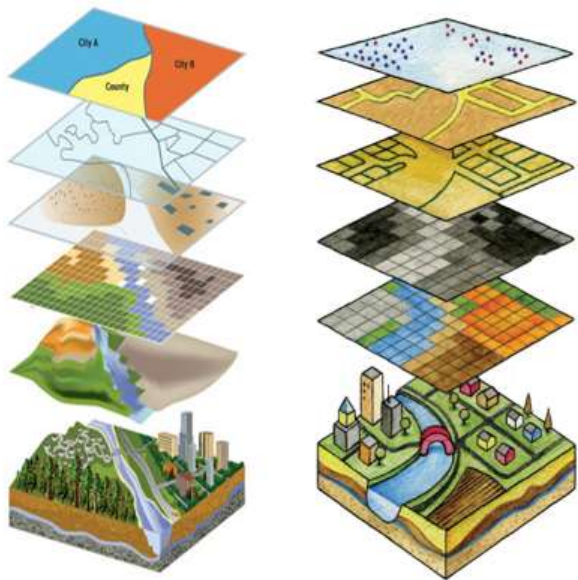
60 վրկ.

11

Հ 10 Ի՞նչ է պատկերված նկարներում



- A** երկրակեղևի զարգացման պատմական ընթացքը
- B** Աշխարհագրական տեղեկատվական համակարգեր
- C** աշխարհագրական խաղեր
- D** երկրակեղևի կտրվածքներ

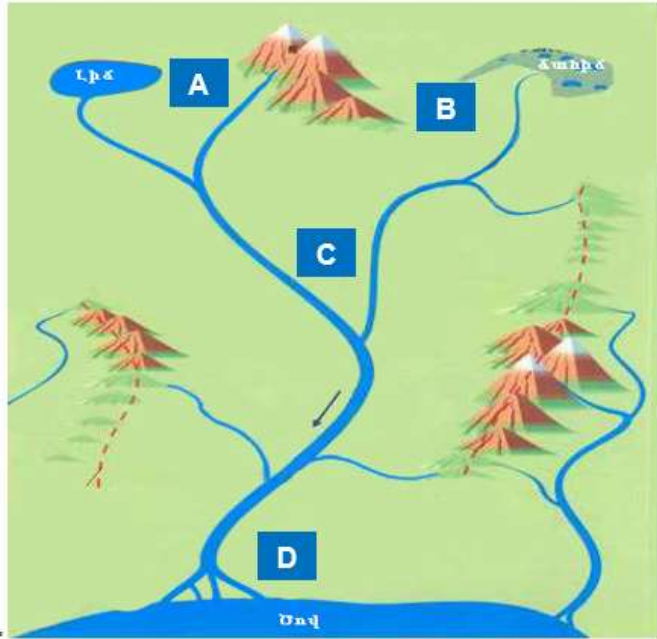


60 վրկ.

12

Հ 11 Նշված վայրերից որտե՞ղ է առավել նպաստավոր՝ զբոսաշրջային կենտրոն կառուցելու համար

- A** A վայրում
- B** B վայրում
- C** C վայրում
- D** D վայրում



April 6, 2019

60 վրկ.

13

Հ 12 Խառնարանը գոյացել է՝

- A** հրաբխից
- B** երկնաքարից
- C** փլուզումից
- D** սառցաբեռումից

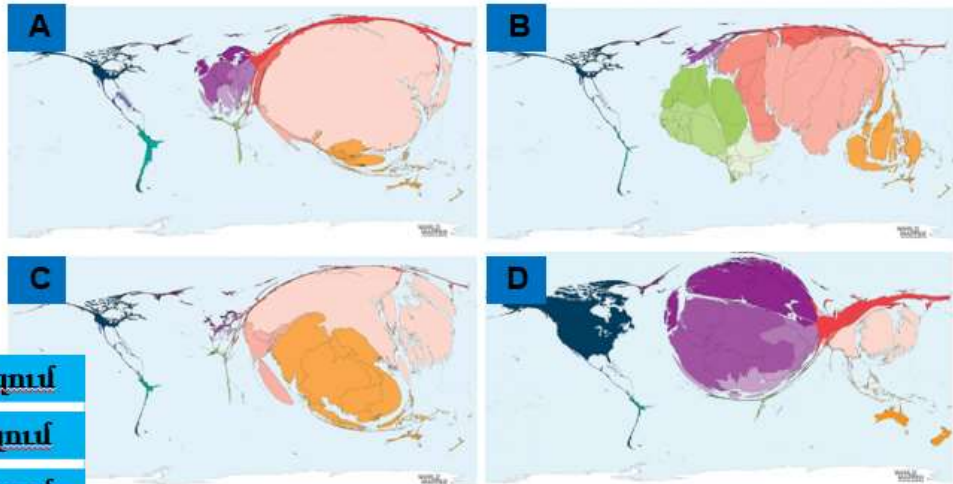


April 6, 2019

60 վրկ.

14

Հ 13 Ո՞ր քարտեզում է պատկերված աշխարհի 2018 թ. բոլոր տեսակի օլիմպիադաների մեդալների բաշխումն ըստ երկրների




- A** A քարտեզում
- B** B քարտեզում
- C** C քարտեզում
- D** D քարտեզում

April 6, 2019

60 վրկ.

15

Հ 14 Ո՞ր կետում է դիտվում գետի ամենամեծ խորությունը



- A** A կետում
- B** B կետում
- C** C կետում
- D** D կետում

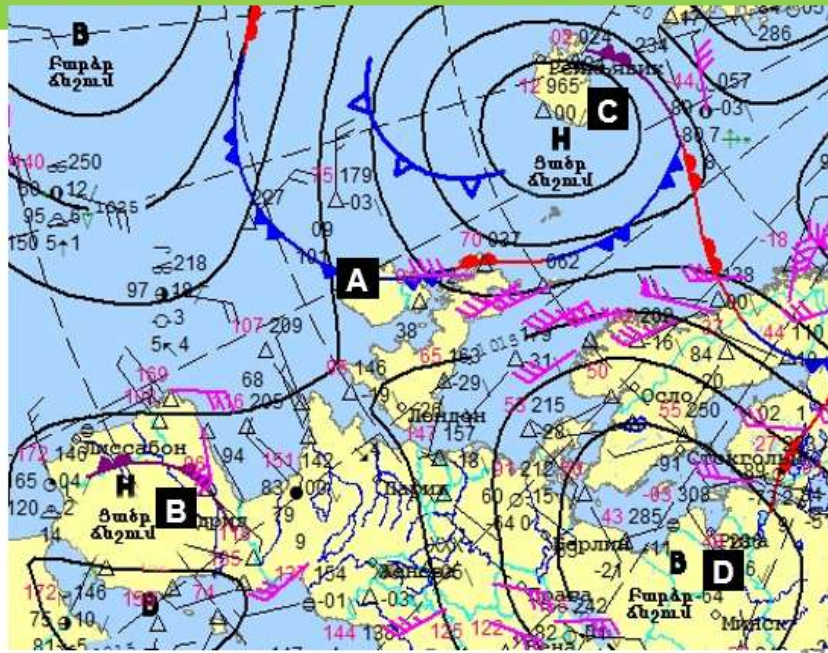
April 6, 2019

60 վրկ.

16

Հ 15 Բարսեղի վրա նշված վայրերից որտե՞ղ է դիտվում արևային եղանակ

- A** A վայրում
- B** B վայրում
- C** C վայրում
- D** D վայրում



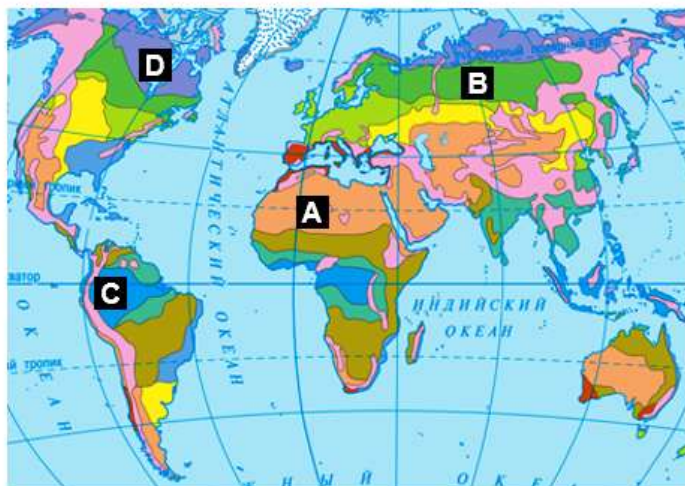
April 6, 2019

60 վրկ.

Հ 16 Բարսեղի վրա նշված վայրերից որի՞ ն է համապատասխանում լուսանկարը



- A** A վայրին
- B** B վայրին
- C** C վայրին
- D** D վայրին



April 6, 2019

60 վրկ.

18

Հ 17 Ի՞նչ են պատկերված նկարներում

- A** ստորգետնյա կորո
- B** սպարաբանված օբեկտ
- C** երկնաքարի հարվածի տեղ
- D** օրի էրոզիայի արդյունք



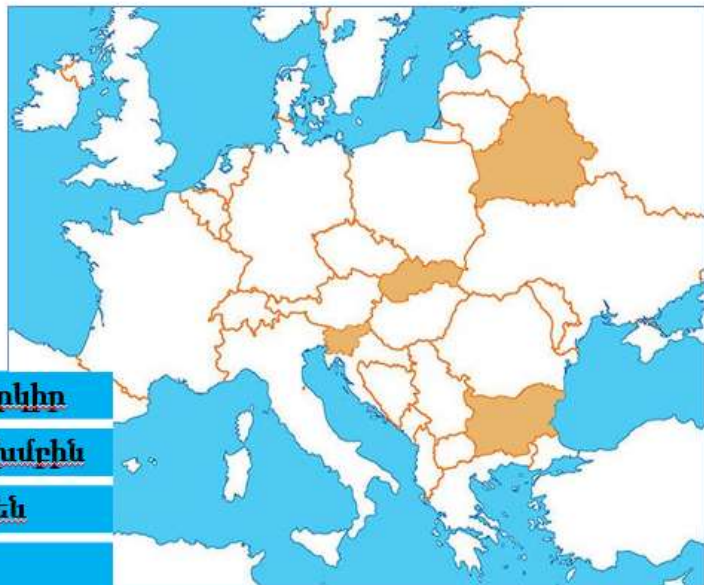
April 6, 2019

60 վրկ.

19

Հ 18 Ի՞նչ սկզբունքով են առանձնացվել քարտեզում նշված 4 երկիրը

- A** համարվում են ԵՄ անդամ երկիր
- B** պատկանում են նույն լեզվախմբին
- C** Արևելյան Եվրոպայի երկիր են
- D** NATO անդամ երկիր են

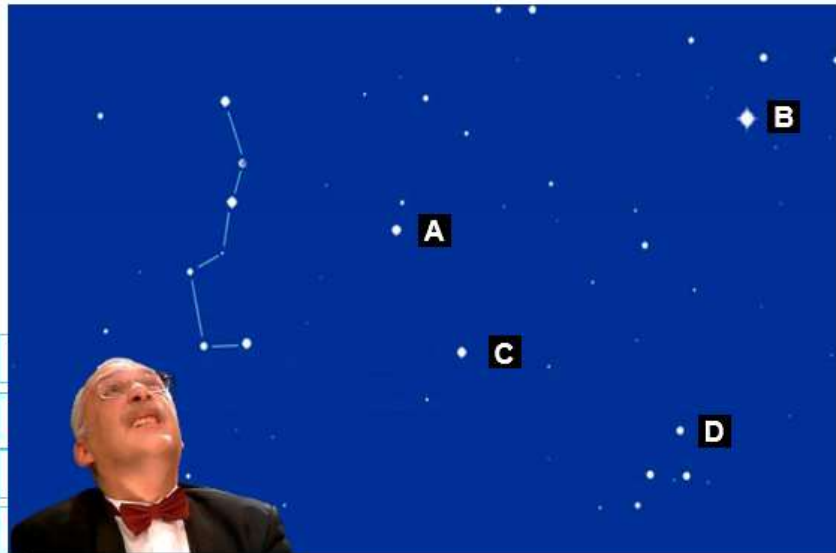


April 6, 2019

60 վրկ.

20

- A A տատով
- B B տատով
- C C տատով
- D B տատով

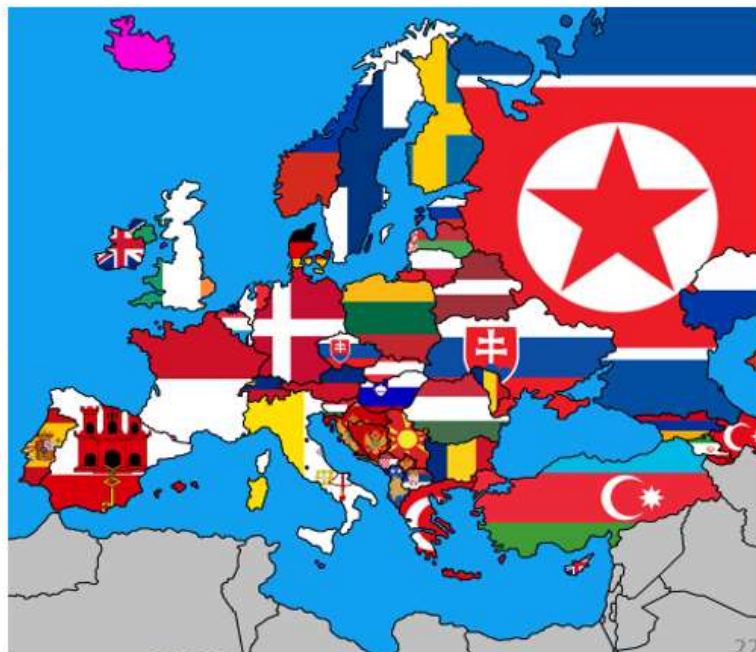


April 6, 2019

60 վրկ.

21

- A դրոշն այն երկրին է, որի հետ ունի միճարկելի տարածքներ
- B դրոշն այն երկրին է, որի հետ ունի բարեկամական հարաբերություններ
- C դրոշն այն երկրին է, որի հետ ունի ասուտրային դրական սալոդ
- D դրոշն այն երկրին է, որի հետ ունի ամենափոքր սահմանը



60 վրկ.

22

վԵՐՁ

April 6, 2019

23